


## Žadatel skupina A

1.	<p><b>[2 b.] Místo, v němž se pozemní komunikace protínají nebo spojují, nejde-li o vyústění účelové pozemní komunikace na jinou pozemní komunikaci, se nazývá:</b></p> <p>a) Křižovatka. b) Spojnice pozemních komunikací. c) Hranice křižovatky.</p>
2.	<p><b>[2 b.] Řidič na pozemní komunikaci s jednosměrným provozem:</b></p> <p>a) Smí couvat, jestliže je tato pozemní komunikace široká nejméně 6 metrů. b) Nesmí couvat, i když je to nezbytně nutné, například k zasetí do řady stojících vozidel nebo vyjetí z ní. c) Smí couvat, jestliže je to nezbytně nutné, například k zasetí do řady stojících vozidel nebo vyjetí z ní.</p>
3.	<p><b>[2 b.] Vozidla se před železničním přejezdem řadí:</b></p> <p>a) Tak, aby všichni řidiči měli náležitý výhled na železniční přejezd. b) Náhodně. c) Za sebou v pořadí, ve kterém přijela.</p>
4.	<p><b>[2 b.] Řidič jízdní soupravy, jejíž celková délka přesahuje 7 m, nesmí předjíždět jiné vozidlo:</b></p> <p>a) Pokud je výrazně snížena viditelnost. b) Nejede-li jím řízené vozidlo rychlostí alespoň 50 km/h. c) Pokud k jeho předjetí nemá dostatečnou rychlost, takže by omezil v jízdě ostatní vozidla svou výrazně nižší rychlostí jízdy.</p>
5.	<p><b>[2 b.] K měření rychlosti vozidel je oprávněna:</b></p> <p>a) Jen policie. b) Policie a obecní policie. c) Jen obecní policie.</p>
6.	<p><b>[2 b.] "Doklad totožnosti":</b></p> <p>a) je pouze občanský průkaz, kterým občan České republiky nebo cizinec prokazuje svoji totožnost. b) je doklad, kterým občan České republiky nebo cizinec prokazuje svoji totožnost podle zvláštního právního předpisu. c) je každý doklad, na kterém je fotografie držitele tohoto dokladu.</p>

7.	<p><b>[2 b.] "Jízdní souprava":</b></p> <p>a) je souprava více přípojných vozidel.  b) je souprava složená z jednoho nebo více motorových vozidel a jednoho nebo více přípojných vozidel.  c) je složená z jednoho motorového vozidla s tažným zařízením.</p>
8.	<p><b>[2 b.] Jak se zachová řidič vozidla přijíždějící k přechodu pro chodce, kde osoby zjevně hodlají přecházet pozemní komunikaci?</b></p>  <p>©Asociace autoškol ČR 2021 <span style="float: right;">Financováno z fondu zábrany škod ČKP</span></p> <p>a) Nemusí snížit rychlost jízdy nebo zastavit vozidlo před přechodem pro chodce.  b) Nesmí ohrozit nebo omezit chodce a v případě potřeby je řidič povinen i zastavit vozidlo před přechodem pro chodce.</p>
9.	<p><b>[2 b.] Řidič na motocyklu nesmí přepravovat na druhém sedadle osobu mladší:</b></p> <p>a) 12 let.  b) 15 let.  c) 10 let.</p>
10.	<p><b>[2 b.] Jakým způsobem lze ukončit platnost zákazových dopravních značek?</b></p>



©Asociace autoškol ČR 2021

Financováno z fondu zábrany škod ČKP

- a) Vyústěním polní nebo lesní cesty.
- b) Platnost končí po ujetí 90 m za dopravní značkou.
- c) Nejbližší křižovatkou nebo příslušnou dopravní značkou ukončující zákaz.

11. **[2 b.] Častou příčinou těžkých nehod na dálnici při předjíždění je:**

- a) Pomalá jízda.
- b) Nedostatečné sledování provozu za vozidlem.
- c) Jízda s bezpečnou vzdáleností mezi vozidly.

12. **[2 b.] Ve výhledu z motorového vozidla vidíte skupinu dětí na chodníku. Jak se zachováte?**

- a) Použijete zvukové výstražné znamení a přejedete k levému okraji jízdního pruhu.
- b) Protože jsou děti na chodníku, nemáte důvod ke zvýšení opatrnosti ani ke změně způsobu jízdy.
- c) S ohledem na možné vběhnutí dětí do vozovky snížíte rychlost jízdy a zvýšíte pozornost.

13. **[2 b.] Řidič vozidla z výhledu:**



©Asociace autoškol ČR 2021

Financováno z fondu zábrany škod ČKP

- a) porušuje předpisy tím, že objíždí autobus po tramvajovém pásu.
- b) autobus v zastávce objede.

c) nesmí objíždět autobus; zastaví za ním a vyčká jeho odjezdu ze zastávky.

14.


**[2 b.] Ovlivní ovládání navigačního systému vozidla za jízdy reakční dobu řidiče nutnou k vyřešení mimořádné události v provozu na pozemních komunikacích?**



- a) Ne. Ovládat navigační systém vozidla za jízdy neprodlužuje reakční dobu řidiče.
- b) Ano. Řidič se musí plně věnovat řízení vozidla a sledovat situaci v provozu na pozemních komunikacích.

15.

**[1 b.] Za touto dopravní značkou smíte jet rychlostí:**



- a) Nejvýše 50 km/h, protože vjíždíte do obce.
- b) Nejvýše 20 km/h, protože vjíždíte do obytné zóny.
- c) Nejvýše 60 km/h, protože vjíždíte do obce.

16.

**[1 b.] Tato dopravní značka:**



- a) Upozorňuje na umělou nerovnost na vozovce, jejímž účelem je zejména snížení rychlosti jedoucích vozidel.
- b) Upozorňuje na nerovnosti ve vozovce nebo na úsek s nerovným povrchem vozovky způsobeným vyjetými koleji.
- c) Upozorňuje na hrboly, výtlučky, díry a jiné nerovnosti ve vozovce nebo na úsek s nerovným povrchem vozovky, vyžadující zvýšenou opatrnost nebo výrazné snížení rychlosti jízdy.

17.

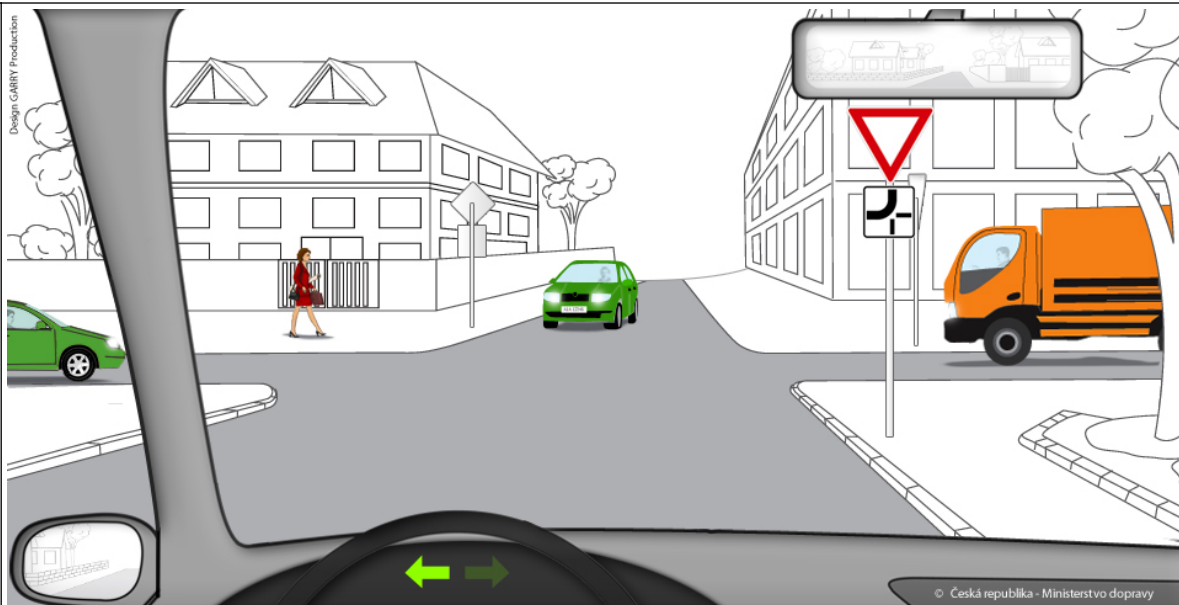
**[1 b.] Tato dopravní značka:**



- a) Prikazuje cyklistům užít v daném směru takto označené stezky.
- b) Zakazuje vjezd cyklistům a jízdu na jízdním kole. Vedení jízdního kola cyklistou je povoleno.
- c) Zakazuje vjezd všem vozidlům s výjimkou cyklistů.

18.

**[4 b.] Jste řidičem vozidla z výhledu. Určete, kolikáté projede Vaše vozidlo touto křižovatkou:**



- a) Třetí.
- b) Druhé.
- c) Poslední.

19.

**[4 b.] Cyklistovi, který dává znamení o změně směru jízdy proto, aby mohl přejet z vyhrazeného jízdního pruhu pro cyklisty do průběžného pruhu, řidič jedoucí v přilehlém pruhu:**



- a) musí tento úkon umožnit snížením rychlosti jízdy, popřípadě i zastavením vozidla.
- b) nemusí tento úkon umožnit, pokud jej neohrozí.
- c) nemusí tento úkon umožnit, jedná se o jízdu z pruhu do pruhu, cyklista nesmí ohrozit ani omezit řidiče jedoucí v pruhu, do kterého se zařazuje.

20.

**[4 b.] Jak se zachováte jako řidič vozidla z výhledu na následující křižovatce?**



- a) Mám přednost před červeným vozidlem, protože na vedlejší komunikaci zprava je značka Stůj, dej přednost v jízdě!
- b) Dám přednost zprava červenému vozidlu.
- c) Dám přednost v jízdě pouze vozidlům na hlavní pozemní komunikaci

21.

**[1 b.] Vozidlo je technicky nezpůsobilé k provozu na pozemních komunikacích, pokud:**

- a) Pro závady v technickém stavu bezprostředně ohrožuje bezpečnost provozu na pozemních komunikacích.
- b) Spotřeba pohonných hmot přesahuje limity stanovené výrobcem vozidla.
- c) Do termínu příští pravidelné technické prohlídky zbývá méně než tři kalendářní měsíce.

22.

**[1 b.] Na vozidle mohou být použita jen taková světelná zařízení:**

- a) Která jsou pevně spojena s vozidlem, bez ohledu na jejich počet, barvu a umístění.
- b) Jejichž činnost je signalizována kontrolkou.
- c) Která jsou pro danou kategorii předepsána a povolena.

23.

**[2 b.] Pojištění odpovědnosti z provozu vozidla se vztahuje na:**

- a) Vlastníka vozidla, který odpovídá za škodu způsobenou provozem vozidla. Na ostatní uživatele vozidla se toto pojištění nevztahuje.
- b) Každou osobu, která odpovídá za škodu způsobenou provozem vozidla uvedeného v pojistné smlouvě.
- c) Vlastníka vozidla při účasti na organizovaném motoristickém závodu, kde řidič není povinen dodržovat pravidla o provozu na pozemních komunikacích.

24.

**[2 b.] Evidence údajů o řidičích je vedena v registru řidičů, jehož správcem je:**

- a) Obecní úřad obce s rozšířenou působností.
- b) Ministerstvo vnitra.
- c) Policejní prezidium České republiky.

25.

**[1 b.] První pomoc je povinen poskytnout:**

- |  |   |
|--|---|
|  | <p>a) Každý, pokud již dosáhl věku 18 let.</p> <p>b) Jen ten, kdo prošel jakýmkoli zdravotnickým školením.</p> <p>c) Každý, kdo tak může učinit bez nebezpečí pro sebe nebo jiného.</p> |
|--|---|



Otázka č.	A	B	C	D	E	F	Bodů
1							2
2							2
3							2
4							2
5							2
6							2
7							2
8							2
9							2
10							2
11							2
12							2
13							2
14							2
15							1
16							1
17							1
18							4
19							4
20							4
21							1
22							1
23							2
24							2
25							1

Otázka č.	A	B	C	D	E	F	Bodů
1	X						2
2			X				2
3			X				2
4			X				2
5		X					2
6		X					2
7		X					2
8		X					2
9	X						2
10			X				2
11		X					2
12			X				2
13			X				2
14		X					2
15	X						1
16	X						1
17		X					1
18			X				4
19	X						4
20		X					4
21	X						1
22			X				1
23		X					2
24	X						2
25			X				1