


Žadatel skupina B

1.	<p>[2 b.] Řidiči protijedoucích vozidel se vyhýbají:</p> <p>a) Vpravo, včas a v dostatečné míře. b) Vlevo, minimálně 10 m před místem, kde se budou míjet. c) Vlevo, včas a v dostatečné míře.</p>
2.	<p>[2 b.] Ve zvláštním motorovém vozidle nesmějí být přepravováni:</p> <p>a) Osoby mladší 18 let. b) Osoby starší 60 let. c) Osoby mladší 15 let.</p>
3.	<p>[2 b.] Řidič je povinen podrobit se vyšetření ke zjištění, zda není ovlivněn alkoholem nebo jinou návykovou látkou:</p> <p>a) Na výzvu policisty nebo strážníka obecní policie. b) Na výzvu starosty obce. c) Na výzvu pracovníka dopravního podniku.</p>
4.	<p>[2 b.] Řidič jízdní soupravy, jejíž celková délka přesahuje 7 m, nesmí předjíždět jiné vozidlo:</p> <p>a) Pokud je výrazně snížena viditelnost. b) Pokud k jeho předjetí nemá dostatečnou rychlost, takže by omezil v jízdě ostatní vozidla svou výrazně nižší rychlostí jízdy. c) Nejede-li jím řízené vozidlo rychlostí alespoň 50 km/h.</p>
5.	<p>[2 b.] Pokud hustota provozu na silnici pro motorová vozidla o dvou jízdních pružích v jednom směru jízdy vyvolá vznik kolony stojících vozidel, jsou řidiči souběžně jedoucích vozidel povinni:</p> <p>a) vytvořit mezi jízdními pruhy prostor pro průjezd vozidel s právem přednostní jízdy b) Řadit se průběžně do levého jízdního pruhu. c) Řadit se průběžně do pravého jízdního pruhu.</p>
6.	<p>[2 b.] Dávat zvukové výstražné znamení k upozornění řidiče předjížděného vozidla:</p> <p>a) Je dovoleno pouze mimo obec. b) Je dovoleno. c) Je zakázáno.</p>
7.	<p>[2 b.] "Nemotorové vozidlo":</p> <p>a) Je pouze jízdní kolo nebo ruční vozík. b) Je přípojné vozidlo a vozidlo pohybující se pomocí lidské nebo zvířecí síly, například jízdní kolo, ruční vozík nebo potahové vozidlo</p>

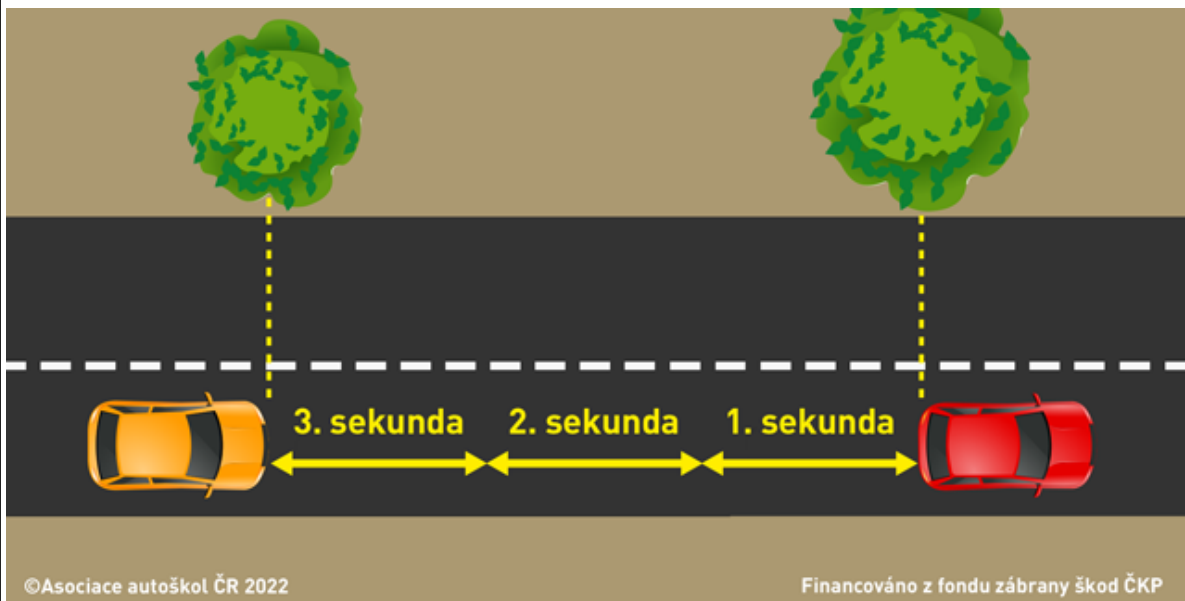
	c) Je vozidlo pohybující se pomocí lidské nebo zvířecí síly, například jízdní kolo nebo ruční vozík; s výjimkou potahového a přípojného vozidla.
8.	<p>[2 b.] "Krajnice":</p> <p>a) je část povrchu pozemní komunikace ležící mezi okrajem přilehlého jízdního pruhu a hranou koruny pozemní komunikace, skládá se zpravidla ze zpevněné a nezpevněné části.</p> <p>b) je část povrchu pozemní komunikace, která je vždy označena dopravní značkou "Nebezpečná krajnice".</p> <p>c) je část vozovky, na kterou je ve všech případech zakázáno vjíždět.</p>
9.	<p>[2 b.] Na pozemní komunikaci o třech nebo více jízdních pruzích vyznačených na vozovce v jednom směru jízdy smí řidič nákladního automobilu o celkové hmotnosti převyšující 3 500 kg, jízdní soupravy, jejíž celková délka přesahuje 7 m, zvláštního motorového vozidla a motocyklu s nejvyšší povolenou rychlostí do 45 km/h užít k jízdě:</p> <p>a) výhradně dvou jízdních pruhů nejbližších k pravému okraji vozovky; v ostatních jízdních pruzích smí jet tehdy, jestliže je to nutné k objíždění, otáčení nebo odbočování.</p> <p>b) kteréhokoliv jízdního pruhu bez ohledu na jízdní úkon.</p> <p>c) výhradně pravého jízdního pruhu.</p>
10.	<p>[2 b.] Je možné přepravovat na předním sedadle osobního automobilu dítě mladší 12 let a nepřevyšující parametry dané zákonem pro jízdu v zádržném systému (150 cm / 36 kg)?</p>  <p>©Asociace autoškol ČR 2023 Financováno z fondu zábrany škod ČKP</p> <p>a) Ne, základním limitem pro jízdu na předním sedadle je věk. Dítě mladší 12 let nesmí vpředu cestovat.</p> <p>b) Ano, na předním sedadle je možné přepravovat dítě v zádržném systému (tzv. vajíčku), dále s využitím dalších typů zádržných systémů (dětská autosedačka/podsedák), které se používají až do doby dosažení výškových a hmotnostních limitů dle zákona.</p> <p>c) Ano, ale pouze v zádržném systému pro nejmenší (tzv. vajíčku). V ostatních případech je umístění dětských autosedaček a podsedáků možné pouze na zadních sedadlech.</p>
11.	[2 b.] Chystáte se předjet cyklistu. Bude vám stačit boční odstup od cyklisty přibližně 50 cm?



- a) Ano, pokud budete dávat zvuková nebo světelná výstražná znamení.
- b) Ne, protože cyklista může náhle zakolísat a vybočit z dráhy směru své jízdy.
- c) Ano, pokud snížíte rychlost na 40km/h, pak je předjíždění bezpečné.

12.

[2 b.] Za snížené viditelnosti, deště a zhoršených klimatických podmínek je bezpečný odstup za vpředu jedoucím vozidlem?



- a) Časový odstup minimálně o 1 sekundu delší než za běžných podmínek.
- b) Stejný jako za dobré viditelnosti nebo běžných povětrnostních podmínek.
- c) Kratší než za dobré viditelnosti nebo běžných povětrnostních podmínek.

13.

[2 b.] Co se rozumí pod pojmem "defenzivní jízda"?

- a) Takový způsob jízdy, ve kterém soutěžíme s ostatními účastníky provozu o to, kdo je lepší řidič.
- b) Takový způsob jízdy, ve kterém jde hlavně o to, abychom byli všude co nejrychleji a udělali co nejméně chyb.
- c) Takový způsob jízdy, kdy se snažíme splynout se silničním provozem, k ostatním účastníkům silničního provozu se chováme ohleduplně, ukázněně a předvídáme i jejich možné chyby.

14.

[2 b.] Který z uvedených sdělovačů informuje řidiče motorového vozidla o rozsvícených zadních mlhových světlech?



a)



b)



c)

15.

[1 b.] Tato dopravní značka zakazuje vjezd vozidel, jejichž:



a) Okamžitá šířka včetně nákladu a zpětných zrcátek je větší než údaj uvedený na značce.

b) Okamžitá délka včetně nákladu a příslušenství vozidla je větší než údaj uvedený na značce.

c) Okamžitá výška včetně nákladu je větší než údaj uvedený na značce.

16.

[1 b.] Co znamená tato dopravní značka?



- a) "Parkoviště" (částečné stání na chodníku).
- b) "Parkoviště" (stání na chodníku podélné).
- c) "Parkoviště" (stání na chodníku kolmé nebo šikmé).

17.

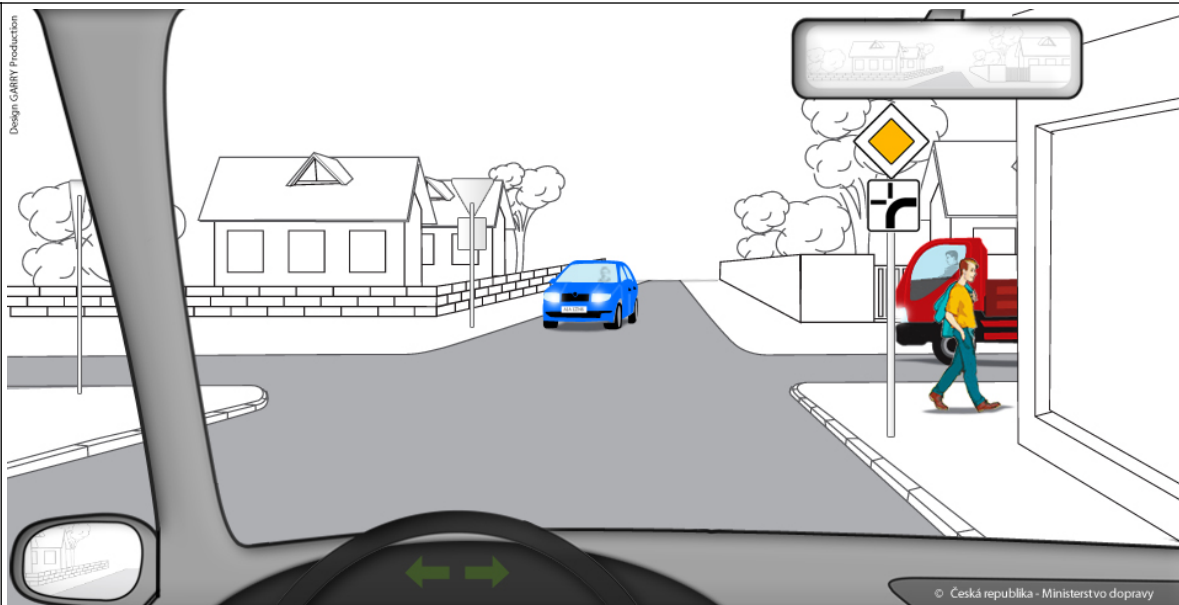
[1 b.] Speciální označení osoby nevidomé je:



- a) Bílá hůl, která musí být opatřena nejméně jedním reflexním bílým pruhem šířky 50 mm.
- b) Hůl s bílými a červenými pruhy o šířce 100 mm, která musí být opatřena nejméně jedním reflexním bílým pruhem šířky 50 mm a nejméně souvislá třetina její délky musí mít průměr nejméně 12 mm.
- c) Hůl s černými a žlutými pruhy o šířce 100 mm, která musí být opatřena nejméně jedním reflexním bílým pruhem šířky 50 mm.

18.

[4 b.] Jste řidičem vozidla z výhledu. V jakém pořadí projedou vozidla touto křižovatkou?



- a) 1. Vaše vozidlo společně s protijedoucím modrým vozilem, 2. červené nákladní vozidlo.
 b) 1. Vaše vozidlo, 2. červené nákladní vozidlo, 3. protijedoucí modré vozidlo.
 c) 1. červené nákladní vozidlo, 2. Vaše vozidlo společně s protijedoucím modrým vozidlem.

19.

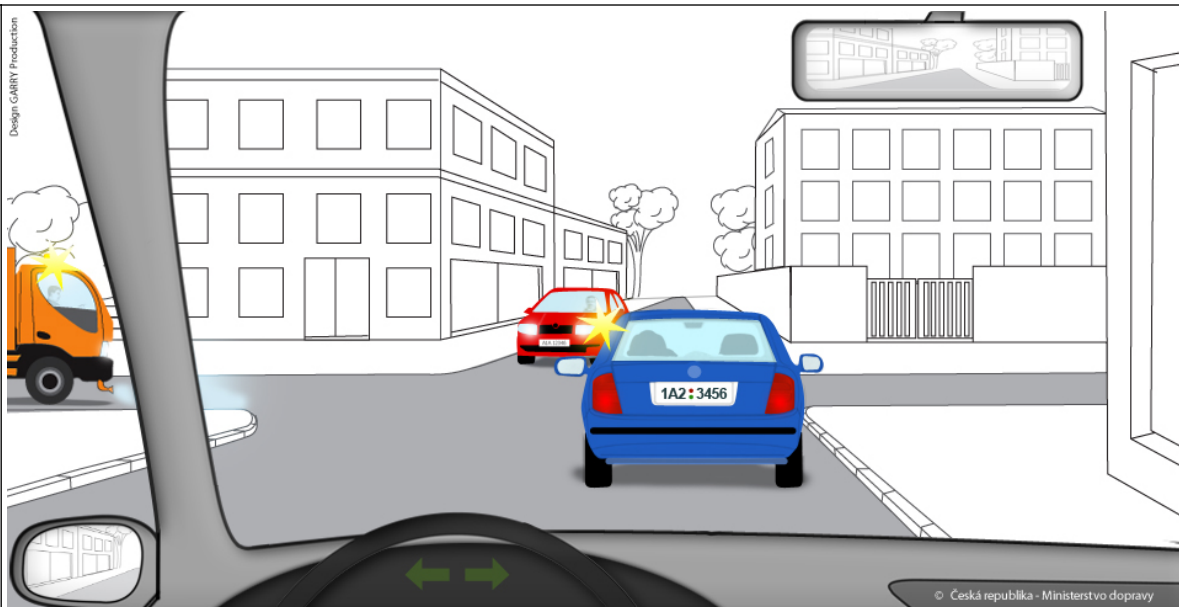
[4 b.] Jste řidičem vozidla z výhledu. Na vyobrazené křižovatce:



- a) Pojedete jako první. Po vás pojedou zelené vozidlo a jako poslední červené nákladní vozidlo.
 b) Pojedete jako druhý, hned po zeleném vozidle, kterému musíte dát přednost v jízdě.
 c) Pojedete jako poslední. Jako první pojedou zelené vozidlo a po něm červené nákladní vozidlo.

20.

[4 b.] Jste řidičem vozidla z výhledu. Na vyobrazené křižovatce:



- a) Musíte dát přednost v jízdě protijedoucímu automobilu; poté můžete pokračovat v jízdě do křižovatky.
- b) Máte přednost v jízdě před protijedoucím automobilem, ale musíte současně sledovat chování řidiče, který jede před vámi.
- c) Projede křižovatkou jako poslední; jako první projede vozidlo označené zvláštním výstražným světlem žluté barvy, které přijíždí zleva, a hned po něm protijedoucí automobil.

21.

[1 b.] Nebrzděný přívěs, jehož přípustná hmotnost nepřevyšuje 750 kg a který nebyl dříve registrován v zahraničí, přistaví jeho provozovatel k technické prohlídce nejpozději ve lhůtě:

- a) 2 let po zaregistrování tohoto přívěsu a potom pravidelně nejpozději ve lhůtách 2 let.
- b) 4 let po zaregistrování tohoto přívěsu a potom pravidelně nejpozději ve lhůtách 4 let.
- c) 6 let po zaregistrování tohoto přívěsu a potom pravidelně nejpozději ve lhůtách 4 let.

22.

[1 b.] Historickým vozidlem je:

- a) Vozidlo, které je zapsáno v registru historických a sportovních vozidel a kterému byl vydán průkaz historického vozidla.
- b) Vozidlo, které nesmí být použito k provozu na pozemních komunikacích.
- c) Každé vozidlo, jehož konstrukce neodpovídá technickým požadavkům na nově vyráběná vozidla.

23.

[2 b.] Řidič, který dosáhl 12 bodů a pozbyl řidičské oprávnění, je oprávněn požádat o vrácení řidičského oprávnění nejdříve po uplynutí:

- a) 1 roku ode dne právní moci rozhodnutí o zákazu činnosti spočívající v zákazu řízení všech motorových vozidel.
- b) půl roku ode dne pozbytí řidičského oprávnění.
- c) 1 roku ode dne pozbytí řidičského oprávnění.

24.

[2 b.] Jakého řidičského oprávnění musí být řidič držitelem při řízení soupravy osobního automobilu s přípojným vozidlem, když největší povolená hmotnost osobního automobilu je 2 500 kg a největší povolená hmotnost přívěsu je 1 800 kg?

2 500 kg

1 800 kg



©Asociace autoškol ČR 2023

Financováno z fondu zábrany škod ČKP

- a) Může mít řidičské oprávnění skupiny B, nebo skupiny C.
- b) Musí být držitelem nejméně řidičského oprávnění skupiny B+E.
- c) Stačí řidičské oprávnění skupiny B s harmonizovaným kódem 96".

25.

[1 b.] U poraněného v hlubokém bezvědomí a bezdeší nastávají nezvratné změny mozkové tkáně do:

- a) 5 min.
- b) 20 min.
- c) 10 min.

Otázka č.	A	B	C	D	E	F	Bodů
1							2
2							2
3							2
4							2
5							2
6							2
7							2
8							2
9							2
10							2
11							2
12							2
13							2
14							2
15							1
16							1
17							1
18							4
19							4
20							4
21							1
22							1
23							2
24							2
25							1

Otázka č.	A	B	C	D	E	F	Bodů
1	X						2
2			X				2
3	X						2
4		X					2
5	X						2
6	X						2
7		X					2
8	X						2
9	X						2
10		X					2
11		X					2
12	X						2
13			X				2
14		X					2
15	X						1
16		X					1
17	X						1
18			X				4
19	X						4
20		X					4
21			X				1
22	X						1
23			X				2
24		X					2
25	X						1