


Žadatel skupina BE

1.	<p>[2 b.] Řidič motorového vozidla o maximální přípustné hmotnosti nepřevyšující 3 500 kg a autobusu smí jet:</p> <p>a) Na silnici pro motorová vozidla a na dálnici rychlostí nejvýše 130 km.h-1. b) Na silnici pro motorová vozidla rychlostí nejvýše 110 km.h-1 a na dálnici rychlostí nejvýše 130 km.h-1, s výjimkou řidiče autobusu, který na dálnici smí jet rychlostí nejvýše 110 km.h-1. c) Na silnici pro motorová vozidla rychlostí nejvýše 110 km.h-1 a na dálnici rychlostí nejvýše 130 km.h-1.</p>
2.	<p>[2 b.] V pěší zóně:</p> <p>a) Nesmí řidič mimo parkoviště ani zastavit vozidlo. b) Nesmí řidič stát jinde než na místech označených jako parkoviště, zastavit ale může i mimo parkoviště. c) Nesmí řidič zastavit a stát jinde než na místech označených jako parkoviště.</p>
3.	<p>[2 b.] Ustanovení o provozu na dálnici platí:</p> <p>a) Pro všechny pozemní komunikace, s výjimkou místních komunikací. b) Pro dálnici a silnici pro motorová vozidla. c) Jen pro dálnice.</p>
4.	<p>[2 b.] Dojde-li při dopravní nehodě k poškození pozemní komunikace, jsou účastníci dopravní nehody povinni:</p> <p>a) Neprodleně ohlásit tuto událost příslušnému obecnímu úřadu obce s rozšířenou působností. b) Neprodleně ohlásit tuto událost vlastníkově pozemní komunikace. c) Neprodleně ohlásit tuto událost Policii České republiky.</p>
5.	<p>[2 b.] Kdo způsobil překážku provozu na pozemních komunikacích:</p> <p>a) Musí ji neprodleně odstranit, a neučiní-li tak, odstraní ji na jeho náklad vlastníkem pozemní komunikace. b) Musí ji odstranit nejpozději do 24 hodin, a neučiní-li tak, odstraní ji správce komunikace na svůj vlastní náklad. c) Není povinen ji odstranit, překážku je vždy povinen odstranit správce komunikace na svůj vlastní náklad.</p>
6.	<p>[2 b.] Řidič nesmí snížit náhle rychlost jízdy nebo náhle zastavit:</p> <p>a) Pokud to nevyžaduje bezpečnost provozu na pozemních komunikacích. b) S výjimkou případu, kdy je zastavován pracovníkem dráhy.</p>

	c) S výjimkou případu zdravotní nevolnosti.
7.	<p>[2 b.] Řidič vozidla, které je vybaveno zvláštním výstražným světlem oranžové barvy, smí tohoto světla užívat:</p> <p>a) Pouze za snížené viditelnosti, například za deště, tmy nebo sněžení, pokud by jeho jízdou byla ohrožena bezpečnost provozu na pozemních komunikacích.</p> <p>b) Pokud by jeho jízdou nebo pracovní činností mohla být ohrožena bezpečnost provozu na pozemních komunikacích.</p> <p>c) Je-li nutné upozornit ostatní účastníky provozu na hrozící nebezpečí, například při nutnosti náhle snížit rychlost jízdy nebo zastavit vozidlo.</p>
8.	<p>[2 b.] "Řidič" je:</p> <p>a) ten, kdo řídí pouze motorové vozidlo a tramvaj.</p> <p>b) pouze ten, kdo řídí motorové vozidlo; za řidiče se nepovažuje ten, kdo řídí nemotorové vozidlo nebo tramvaj.</p> <p>c) ten, kdo řídí motorové nebo nemotorové vozidlo anebo tramvaj.</p>
9.	<p>[2 b.] Jak se zachová řidič vozidla z výhledu odbočujícího na pozemní komunikaci vpravo?</p>  <p>©Asociace autoškol ČR 2021 Financováno z fondu zábrany škod ČKP</p> <p>a) Nesmí ohrozit chodce přecházejícího pozemní komunikaci a musí dbát zvýšené opatrnosti vůči osobě s omezenou schopností orientace.</p> <p>b) Nemusí na tuto osobu brát zvláštní ohled, protože se nenachází na přechodu pro chodce.</p>
10.	[2 b.] Může řidič motorového vozidla vjíždět do prostoru vyhrazeného jízdního pruhu?



- a) Ano, například pokud je to nutné při objíždění překážky, nesmí přitom cyklistu jedoucího v tomto pruhu ohrozit ani omezit.
- b) Ne, do vyhrazeného jízdního pruhu pro cyklisty nesmí vůbec vjíždět.
- c) Může, pokud neohrozí cyklistu jedoucího v tomto pruhu.

11.

[2 b.] Jaké důsledky mohou mít síly působící při průjezdu zatáčkou na větší náklad, který přepravujete na střešním nosiči zavazadel vozidla?

- a) Průjezd zatáčkou nemá žádný vliv na náklad, nemění se těžiště ani jízdní vlastnosti vozidla.
- b) Na náklad působí odstředivá síla, takže se může vysypat nebo posunout.
- c) V zatáčce získává vozidlo větší stabilitu, protože náklad snižuje těžiště vozidla.

12.

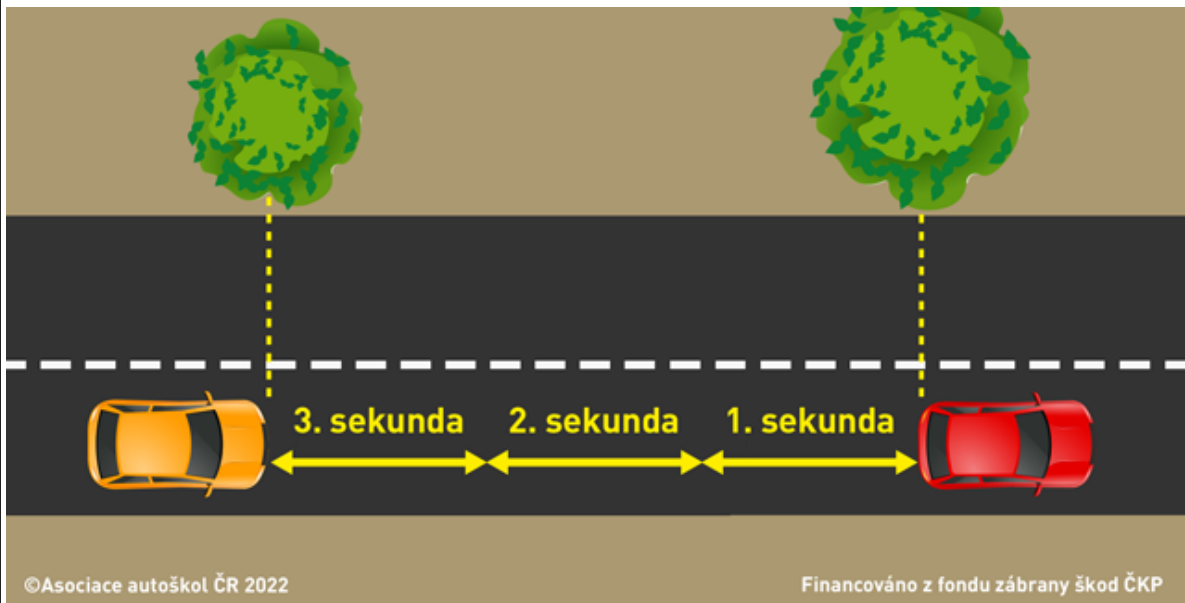
[2 b.] Řidič vozidla z výhledu:



- a) autobus v zastávce objede.
- b) nesmí objíždět autobus; zastaví za ním a vyčká jeho odjezdu ze zastávky.
- c) porušuje předpisy tím, že objíždí autobus po tramvajovém pásu.

13.

[2 b.] Za snížené viditelnosti, deště a zhoršených klimatických podmínek je bezpečný odstup za vpředu jedoucím vozidlem?



- a) Stejný jako za dobré viditelnosti nebo běžných povětrnostních podmínek.
- b) Časový odstup minimálně o 1 sekundu delší než za běžných podmínek.
- c) Kratší než za dobré viditelnosti nebo běžných povětrnostních podmínek.

14.

[2 b.] Airbag:



- a) Plní svou funkci pouze při řádném užití bezpečnostních pásů.
- b) Aktivuje se pouze při zapnutí bezpečnostního pásu.
- c) Plně nahrazuje funkci bezpečnostních pásů.

15.

[1 b.] Na křižovatce označené touto dopravní značkou:



- a) Musíte odbočit vpravo.
- b) Nesmíte odbočit vpravo.
- c) Můžete odbočit vpravo, jen pokud hodláte zastavit na volném místě na parkovišti.

16.

[1 b.] Tato značka zakazuje vjezd:



- a) Všech vozidel, jejichž okamžitá hmotnost připadající na nápravu nedosahuje údaj uvedený na značce.
- b) Všech přípojných jednonápravových vozidel.
- c) Všech vozidel, jejichž okamžitá hmotnost připadající na nápravu přesahuje údaj uvedený na značce.

17.

[1 b.] Ve vyobrazené situaci řidič vozidla z výhledu vpravo:



- a) smí zastavit.
- b) smí stát.
- c) nesmí zastavit a stát.

18.

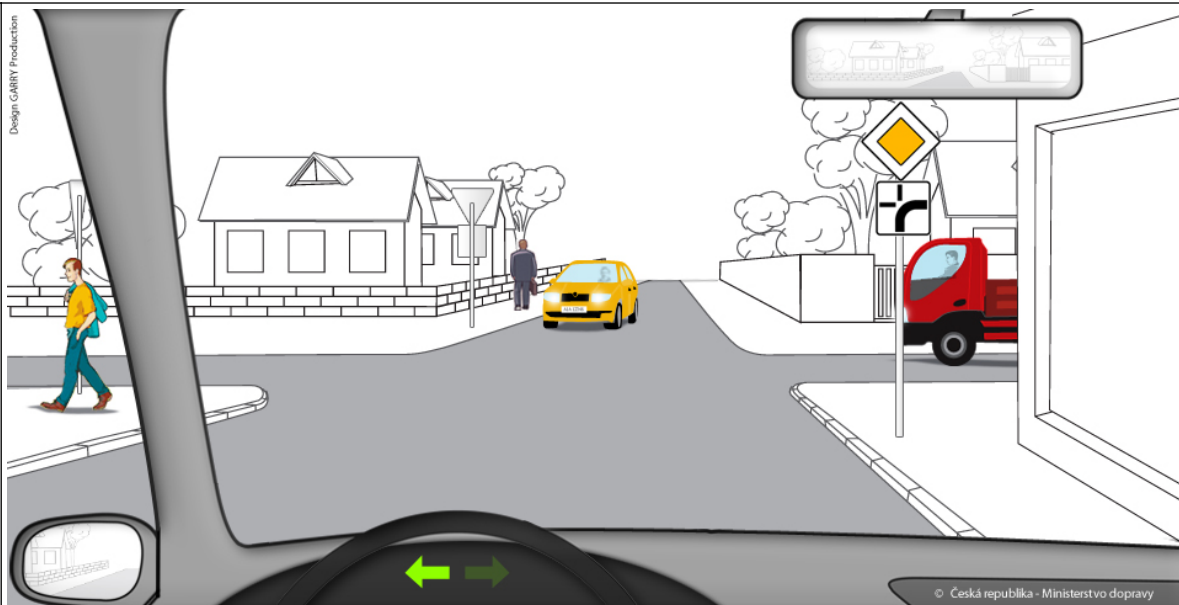
[4 b.] Jste řidičem vozidla z výhledu. Určete, v jakém pořadí projedou vozidla vyobrazenou křižovatkou:



- a) 1. Vaše vozidlo, 2. zelené vozidlo jedoucí zprava, 3. žluté vozidlo.
- b) 1. Vaše vozidlo, 2. protijedoucí žluté vozidlo, 3. zelené vozidlo.
- c) 1. zelené vozidlo jedoucí zprava, 2. Vaše vozidlo, 3. žluté vozidlo.

19.

[4 b.] Jste řidičem vozidla z výhledu. Na vyobrazené křižovatce:



- a) Projedete jako druhý, hned po červeném nákladním vozidle, kterému musíte dát přednost v jízdě.
- b) Projedete jako první, protože jste na hlavní pozemní komunikaci. Hned po Vás projede červený nákladní automobil.
- c) Projedete jako druhý, hned po protijedoucím žlutém vozidle, kterému musíte dát přednost v jízdě.

20.

[1 b.] Nově registrovaná přípojná vozidla:

- a) Nemusí mít žádnou registrační značku.
- b) Mají registrační značku shodnou s tažným vozidlem.
- c) Mají po zaregistrování svou přidělenou registrační značku.

21.

[1 b.] Dodatečná montáž předních mlhových světel na vozidlo je možná:

- a) Pokud montáž odpovídá technickým požadavkům stanoveným mezinárodním předpisem.
- b) Není možná.
- c) Bez omezení.

22.

[2 b.] Mezinárodní řidičský průkaz:

- a) Vydá držiteli řidičského oprávnění příslušný obecní úřad obce s rozšířenou působností na základě jeho žádosti.
- b) Vydá obecní úřad obce s rozšířenou působností vždy společně s řidičským průkazem.
- c) Vydá příslušný útvar dopravní policie vždy společně s řidičským průkazem.

23.

[2 b.] Zelená karta:

- a) osvědčuje zaplacení dálničního poplatku.
- b) je mezinárodní osvědčení prokazující skutečnost, že k vozidlu byla uzavřena smlouva o pojištění odpovědnosti za škodu způsobenou provozem vozidla uvedeného v tomto osvědčení.
- c) je doklad o kontrole měření emisí.

24.

[1 b.] U poraněného s podezřením na úraz páteře:

- a) s poraněným v žádném případě nehýbu.

- | | |
|--|--|
| | <p>b) manipulují s poraněným co nejméně, pouze v souvislosti se zajištěním životních funkcí.</p> <p>c) smím s poraněným manipulovat bez omezení.</p> |
|--|--|

Otázka č.	A	B	C	D	E	F	Bodů
1							2
2							2
3							2
4							2
5							2
6							2
7							2
8							2
9							2
10							2
11							2
12							2
13							2
14							2
15							1
16							1
17							1
18							4
19							4
20							1
21							1
22							2
23							2
24							1

Otázka č.	A	B	C	D	E	F	Bodů
1			X				2
2		X					2
3		X					2
4			X				2
5	X						2
6	X						2
7		X					2
8			X				2
9	X						2
10	X						2
11		X					2
12		X					2
13		X					2
14	X						2
15	X						1
16			X				1
17			X				1
18		X					4
19	X						4
20			X				1
21	X						1
22	X						2
23		X					2
24		X					1