
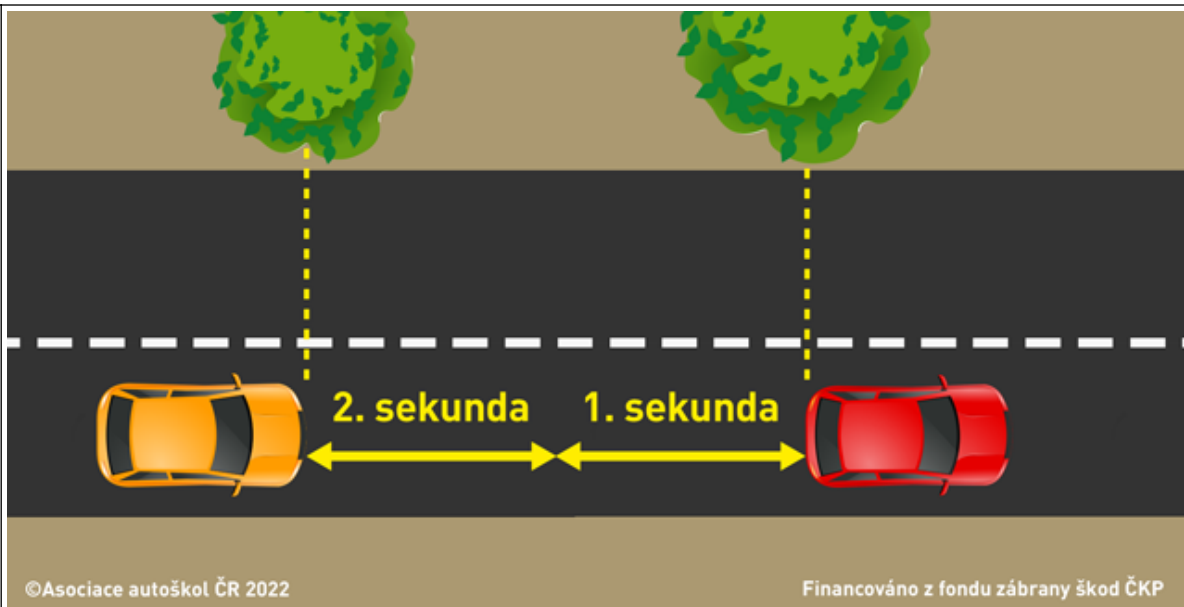


Žadatel skupina C

| | |
|----|--|
| 1. | <p>[2 b.] Na pozemní komunikaci objíždí vozidlo překážku. Musí jeho řidič dávat znamení o změně směru své jízdy?</p> <p>a) Ne. b) Ano.</p> |
| 2. | <p>[2 b.] Za nesnížené viditelnosti při přepravě zemědělských produktů nemusí být zvláštním způsobem označen náklad přečnávající:</p> <p>a) Z boku vnější okraj obrysových světel o více než 40 cm. b) Vozidlo vzadu o více než 1 metr. c) Vozidlo vpředu o více než 1 metr.</p> |
| 3. | <p>[2 b.] Provozovatel silničního motorového vozidla nesmí provozovat na pozemních komunikacích vozidlo:</p> <p>a) Které je technicky nezpůsobilé k provozu. b) Které spotřebou pohonných hmot přesahuje limity stanovené výrobcem vozidla. c) K jehož pohonu má být podle návodu k použití užit pouze bezolovnatý benzín.</p> |
| 4. | <p>[2 b.] Řidič motorového vozidla:</p> <p>a) Se nesmí otáčet na místech nepřehledných nebo jinak nebezpečných, např. v nepřehledné zatáčce a její blízkosti nebo před nepřehledným vrcholem stoupání pozemní komunikace, na něm a za ním. b) Se může otáčet v těsné blízkosti železničního přejezdu, pokud je železniční zabezpečovací zařízení funkční. c) Se může otáčet na přechodu pro chodce nebo na přejezdu pro cyklisty nebo v jejich těsné blízkosti, pokud tím neohrozí bezpečnost ostatních účastníků silničního provozu.</p> |
| 5. | <p>[2 b.] Dojde-li při dopravní nehodě k poškození životního prostředí, jsou účastníci dopravní nehody povinni:</p> <p>a) Neprodleně ohlásit tuto událost Policii České republiky. b) Neprodleně ohlásit tuto událost vlastníkům všech dotčených pozemků. c) Neprodleně ohlásit tuto událost Inspekci životního prostředí.</p> |
| 6. | <p>[2 b.] Vodorovné dopravní značky jsou vyznačeny:</p> <p>a) Barvou nebo jiným srozumitelným způsobem; přechodná změna místní úpravy provozu na pozemních komunikacích je vyznačena žlutou nebo oranžovou barvou. b) Na tabulích; přechodné změny provozu jsou provedeny červenou barvou. c) Pomocí příslušných dopravních zařízení.</p> |

| | |
|-----|--|
| 7. | <p>[2 b.] Řidič nesmí kouřit:</p> <p>a) Při řízení nákladního automobilu. b) Jen při jízdě na jízdním kole. c) Při jízdě na motocyklu, na mopedu a na jízdním kole.</p> |
| 8. | <p>[2 b.] Pokud přijíždíte na tuto křižovatku, musíte dát přednost v jízdě všem vozidlům přijíždějícím:</p>  <p>a) Jen zleva. b) Zprava i zleva. c) Jen zprava.</p> |
| 9. | <p>[2 b.] Řidič motorového vozidla, jehož celková hmotnost nepřevyšuje 3.500 kg, smí v obci zastavit a stát:</p> <p>a) Pouze vpravo ve směru jízdy rovnoběžně s okrajem pozemní komunikace a co nejbližší k němu; řidič vozidla taxislužby smí zastavit i v druhé řadě. b) I kolmo, popřípadě šikmo k okraji pozemní komunikace; ve druhé řadě smí zastavit pouze řidič vozidla taxislužby. c) I kolmo, popřípadě šikmo k okraji pozemní komunikace nebo zastavit v druhé řadě, pokud tím není ohrožena bezpečnost a plynulost provozu.</p> |
| 10. | <p>[2 b.] Silnice pro motorová vozidla je:</p> <p>a) Pozemní komunikace označená dopravní značkou "Silnice pro motorová vozidla". b) Každá pozemní komunikace o nejméně dvou jízdních pružích v jednom směru jízdy, pokud vede mimo obec. c) Každá silnice I. třídy.</p> |
| 11. | <p>[2 b.] Je minimální bezpečná vzdálenost mezi jedoucími vozidly zákonem přesně definována v metrech?</p> |



- a) Ano, je třeba dodržet vždy bezpečnou vzdálenost minimálně 20 metrů a u nákladních automobilů a autobusů vždy 30 metrů.
- b) Ano, je třeba dodržet vždy bezpečnou vzdálenost minimálně 30 metrů a u nákladních automobilů a autobusů vždy 40 metrů.
- c) Ne, je třeba zvážit všechny možné faktory. Zejména rychlost, technický stav a konstrukci vozidla, klimatické a adhezni podmínky a reakční dobu řidiče.

12.

[2 b.] V rámci dodržování bezpečné a defenzivní jízdy (například na dovolenou či služební cestu) by měl řidič vozidla z výhledu ve vyobrazené dopravní situaci:



- a) vidět na vozovce minimálně jednu šipku za vpředu jedoucím vozidlem za běžných podmínek a dodržet tak doporučenou bezpečnou vzdálenost jedoucích vozidel.
- b) vidět na vozovce minimálně jednu šipku pouze za vpředu jedoucím osobním vozidlem za běžných podmínek.
- c) vidět na vozovce minimálně dvě šipky za vpředu jedoucím vozidlem za běžných podmínek a dodržet tak doporučenou bezpečnou vzdálenost jedoucích vozidel.

13.

[2 b.] Airbag:



©Asociace autoškol ČR 2022

Financováno z fondu zábrany škod ČKP

- a) Plní svou funkci pouze při řádném užití bezpečnostních pásů.
- b) Aktivuje se pouze při zapnutí bezpečnostního pásu.
- c) Plně nahrazuje funkci bezpečnostních pásů.

14.

[2 b.] Který z uvedených sdělovačů informuje řidiče motorového vozidla o rozsvícených zadních mlhových světlech?



a)



b)



c)

15.

[1 b.] Na vyobrazené křižovatce musíte jako řidič vozidla z výhledu:



- a) Odbočit vpravo.
- b) Dát přednost v jízdě vozidlům v obou směrech.
- c) Dát přednost v jízdě vozidlům přijíždějícím zleva.

16.

[1 b.] Tato dopravní značka:



- a) Upozorňuje na úsek pozemní komunikace s prudkým stoupáním. Na značce se uvádí skutečný nejvyšší podélný sklon vozovky.
- b) Upozorňuje na únikový pruh za nebezpečným klesáním, kde lze v případě nouze, například při sníženém účinku brzd, zastavit vozidlo pomocnými prostředky, například protisvahem, hrubým štěrkovým povrchem apod.
- c) Upozorňuje na úsek pozemní komunikace, kde místní podmínky činí klesání nebezpečným. Na značce se uvádí skutečný nejvyšší podélný sklon vozovky.

17.

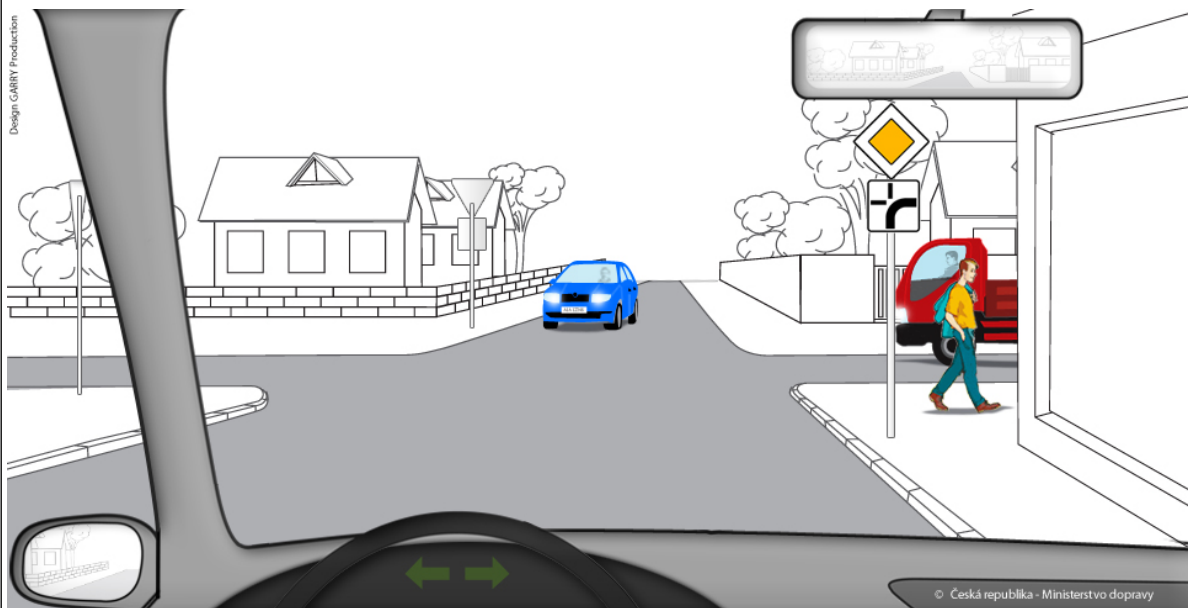
[1 b.] Tato značka upozorňuje řidiče:



- a) Na křižovatku s kruhovým objezdem.
- b) Na změnu místní úpravy provozu na pozemních komunikacích na dopravním okruhu.
- c) Na dopravní okruh zřízený pro objíždění obce nebo její části.

18.

[4 b.] Jste řidičem vozidla z výhledu. V jakém pořadí projedou vozidla touto křižovatkou?



- a) 1. Vaše vozidlo společně s protijedoucím modrým vozilem, 2. červené nákladní vozidlo.
- b) 1. červené nákladní vozidlo, 2. Vaše vozidlo společně s protijedoucím modrým vozidlem.
- c) 1. Vaše vozidlo, 2. červené nákladní vozidlo, 3. protijedoucí modré vozidlo.

19.

[4 b.] Řidič vozidla z výhledu na vyobrazené křižovatce:



- a) Musí dát přednost všem vozidlům přijíždějícím zprava i zleva.
- b) Musí dát přednost všem vozidlům přijíždějícím zprava.
- c) Má přednost v jízdě před všemi vozidly, přesto ale musí přibrzdit před hranicí křižovatky a přesvědčit se, zda může křižovatkou bezpečně projet.

20.

[4 b.] Jak se zachováte jako řidič vozidla z výhledu na následující křižovatce?



- a) Dám přednost v jízdě pouze vozidlům na hlavní pozemní komunikaci
- b) Mám přednost před červeným vozidlem, protože na vedlejší komunikaci zprava je značka Stůj, dej přednost v jízdě!
- c) Dám přednost zprava červenému vozidlu.

21.

[1 b.] Činná plocha pláště pneumatiky v provozu musí mít po celém obvodu a v celé šíři vrchního běhounu jasně viditelný dezén s hloubkou hlavních dezénových drážek:

- a) U mopedů nejméně 1,0 mm a u vozidel ostatních kategorií nejméně 1,6 mm.
- b) U všech vozidel nejméně 1,0 mm.
- c) U osobních vozidel 1,5 mm a u nákladních vozidel 2,0 mm.

22.

[1 b.] K pravidelné technické prohlídce může přistavit vozidlo:

| | |
|-----|---|
| | <p>a) Pouze provozovatel vozidla.</p> <p>b) Pouze vlastník vozidla.</p> <p>c) Jakákoliv osoba, které je vozidlo svěřeno.</p> |
| 23. | <p>[2 b.] Změnu příjmení musí držitel řidičského průkazu nejpozději do pěti pracovních dnů ode dne, kdy ke změně došlo, oznámit:</p> <p>a) Příslušnému obecnímu úřadu obce s rozšířenou působností.</p> <p>b) Příslušnému útvaru obecní policie.</p> <p>c) Příslušnému útvaru dopravní policie.</p> |
| 24. | <p>[2 b.] Ztrátu řidičského průkazu je držitel řidičského oprávnění povinen:</p> <p>a) Neprodleně ohlásit příslušnému obecnímu úřadu obce s rozšířenou působností.</p> <p>b) Neprodleně ohlásit příslušnému útvaru obecní policie.</p> <p>c) Neprodleně ohlásit příslušnému útvaru dopravní policie.</p> |
| 25. | <p>[1 b.] Jak budete postupovat u poraněného, který má po pádu z motocyklu zlomenou dolní končetinu a reaguje na oslovení:</p> <p>a) zavolám pomoc, případně stabilizuji zlomeniny a do příjezdu ZS budu u poraněného nadále sledovat stav vědomí a dýchání</p> <p>b) poraněného se nebudu vůbec dotýkat, aby nedošlo ke zhoršení jeho stavu</p> <p>c) stabilizuji zlomeninu a teprve potom zavolám ZS</p> |

| Otázka č. | A | B | C | D | E | F | Bodů |
|-----------|---|---|---|---|---|---|------|
| 1 | | | | | | | 2 |
| 2 | | | | | | | 2 |
| 3 | | | | | | | 2 |
| 4 | | | | | | | 2 |
| 5 | | | | | | | 2 |
| 6 | | | | | | | 2 |
| 7 | | | | | | | 2 |
| 8 | | | | | | | 2 |
| 9 | | | | | | | 2 |
| 10 | | | | | | | 2 |
| 11 | | | | | | | 2 |
| 12 | | | | | | | 2 |
| 13 | | | | | | | 2 |
| 14 | | | | | | | 2 |
| 15 | | | | | | | 1 |
| 16 | | | | | | | 1 |
| 17 | | | | | | | 1 |
| 18 | | | | | | | 4 |
| 19 | | | | | | | 4 |
| 20 | | | | | | | 4 |
| 21 | | | | | | | 1 |
| 22 | | | | | | | 1 |
| 23 | | | | | | | 2 |
| 24 | | | | | | | 2 |
| 25 | | | | | | | 1 |

| Otázka č. | A | B | C | D | E | F | Bodů |
|-----------|---|---|---|---|---|---|------|
| 1 | | X | | | | | 2 |
| 2 | X | | | | | | 2 |
| 3 | X | | | | | | 2 |
| 4 | X | | | | | | 2 |
| 5 | X | | | | | | 2 |
| 6 | X | | | | | | 2 |
| 7 | | | X | | | | 2 |
| 8 | | X | | | | | 2 |
| 9 | | | X | | | | 2 |
| 10 | X | | | | | | 2 |
| 11 | | | X | | | | 2 |
| 12 | | | X | | | | 2 |
| 13 | X | | | | | | 2 |
| 14 | | X | | | | | 2 |
| 15 | X | | | | | | 1 |
| 16 | X | | | | | | 1 |
| 17 | X | | | | | | 1 |
| 18 | | X | | | | | 4 |
| 19 | | X | | | | | 4 |
| 20 | | | X | | | | 4 |
| 21 | X | | | | | | 1 |
| 22 | | | X | | | | 1 |
| 23 | X | | | | | | 2 |
| 24 | X | | | | | | 2 |
| 25 | X | | | | | | 1 |