

## Žadatel skupina DE

1.	<p><b>[2 b.] Po předjetí jiného vozidla máte v úmyslu se zařadit před toto vozidlo. Musíte dávat znamení o změně směru jízdy?</b></p> <p>a) Ano. b) Ne.</p>
2.	<p><b>[2 b.] Svítí-li světlo signálu se žlutým světlem "Pozor!" na křižovatce přerušovaně:</b></p> <p>a) Je to signál pro řidiče k volnému průjezdu křižovatkou. b) Nejde o křižovatku s provozem řízeným světelnými signály. c) Znamená to pro řidiče povinnost neprodleně křižovatku opustit.</p>
3.	<p><b>[2 b.] Vozidlo vjíždějící na pozemní komunikaci:</b></p> <p>a) Musí být v případě, že tak lze učinit bez větších obtíží, předem očištěno. b) Musí být očištěno na nejbližším vhodném místě po vjetí na pozemní komunikaci. c) Musí být předem očištěno tak, aby neznečišťovalo pozemní komunikaci.</p>
4.	<p><b>[2 b.] Řidič, který při předjíždění motorového vozidla vybočuje ze směru své jízdy:</b></p> <p>a) Musí dávat znamení o změně směru jízdy. b) Nemusí dávat znamení o změně směru jízdy. c) Dává znamení o změně směru jízdy jen tehdy, vyžaduje-li to bezpečnost provozu.</p>
5.	<p><b>[2 b.] V obytné zóně řidič:</b></p> <p>a) Nesmí zastavit a stát jinde než na místech označených jako parkoviště. b) Nesmí stát jinde než na místech označených jako parkoviště, zastavit ale může i mimo parkoviště. c) Nesmí mimo parkoviště ani zastavit vozidlo.</p>
6.	<p><b>[2 b.] Dojde-li během jízdy na dálnici na vozidle nebo nákladu k závadě, pro kterou nelze dosáhnout na rovině rychlosti nejméně 80 km/h, musí řidič:</b></p> <p>a) Přejet do jízdního pruhu pro pomalá vozidla a v něm pokračovat v jízdě. b) Opustit dálnici na nejbližším výjezdu. c) Vozidlo okamžitě odstavit na krajnici a označit jako překážku provozu.</p>
7.	<p><b>[2 b.] Kdy smíte při jízdě s motorovým vozidlem, které je vybaveno světly pro denní svícení, těmito světly svítit?</b></p> <p>a) Pouze při nesnížené viditelnosti, a to bez současného použití obrysových světel. b) Při nesnížené viditelnosti samostatně a při současném použití obrysových světel i při snížené</p>

	<p>viditelnosti.</p> <p>c) Pouze v době od 6.00 hodin do 20.00 hodin a jen při současném použití obrysových světel.</p>
8.	<p><b>[2 b.] Je-li dáována výstraha dvěma červenými střídavě přerušovanými světly signálu přejezdového zabezpečovacího zařízení, znamená to, že řidič:</b></p> <p>a) Musí zapnout výstražné světelné zařízení.</p> <p>b) Nesmí vjíždět na železniční přejezd.</p> <p>c) Smí vjíždět na železniční přejezd.</p>
9.	<p><b>[2 b.] Řidič smí jet jen takovou rychlostí:</b></p> <p>a) Aby byl schopen zastavit vozidlo na vzdálenost, na kterou má rozhled.</p> <p>b) Aby byl schopen zastavit vozidlo, když mu nedá jiný řidič přednost v jízdě.</p> <p>c) Aby byl schopen zastavit vozidlo na vzdálenost 100 m.</p>
10.	<p><b>[2 b.] V obytné zóně řidič smí jet rychlostí:</b></p> <p>a) Nejvýše 40 km.h-1.</p> <p>b) Nejvýše 30 km.h-1.</p> <p>c) Nejvýše 20 km.h-1.</p>
11.	<p><b>[2 b.] Když zvýšíte rychlost jízdy na dvojnásobek (např. z 50 km/h na 100 km/h), prodlouží se tím brzdná dráha Vašeho vozidla na suché vozovce:</b></p> <p>a) Přibližně na čtyřnásobek délky původní brzdné dráhy.</p> <p>b) Přibližně na trojnásobek délky původní brzdné dráhy.</p> <p>c) Přibližně na dvojnásobek délky původní brzdné dráhy.</p>
12.	<p><b>[2 b.] Častou příčinou vzniku dopravních nehod při jízdě na dálnici je:</b></p> <p>a) Jízda v pravém jízdním pruhu.</p> <p>b) Jízda s nedostatečnou vzdáleností mezi vozidly jedoucími za sebou.</p> <p>c) Pomalá jízda nákladních vozidel.</p>
13.	<p><b>[2 b.] Chodec na přechodu pro chodce signalizuje úmysl přejít vozovku mávnutím bílou slepeckou holí ve směru přecházení. Jak se zachováte?</b></p> <p>a) Zvukovým výstražným znamením dám najevo, že nemůže přecházet přes vozovku a budu pokračovat v jízdě.</p> <p>b) Snížím rychlost jízdy nebo zastavím vozidlo před přechodem pro chodce a umožním chodci nerušené a bezpečné přejít vozovky.</p> <p>c) Budu pokračovat v jízdě, protože nevidomý člověk bez doprovodu nesmí přecházet vozovku.</p>
14.	<p><b>[2 b.] Dodržel řidič červeného nákladního automobilu při rychlosti 72 km/h (20m/s) bezpečnou vzdálenost za vozidlem jedoucím před ním?</b></p>



- a) Ne.
- b) Ano.

15. [1 b.] Která z těchto dopravních značek zakazuje zastavení?



a)




b)

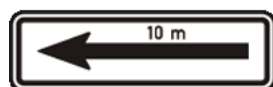


c)

16. [1 b.] Která z vyobrazených dodatkových tabulek vyznačuje úsek platnosti dopravní značky, pod kterou je umístěna:



a)



b)



c)

17.

**[1 b.] Může řidič projet úsekem označeným vyobrazenou dopravní značkou "Jiný zákaz", když si chce zkrátit cestu nebo objet komplikovanou dopravní situaci?**



- a) Ano.
- b) Ne.
- c) Ano, pokud zná místní situaci.

18.


**[4 b.] Jste řidičem vozidla z výhledu. Při jízdě křižovatkou, která je znázorněna na obrázku:**



- a) Dáte přednost v jízdě zelenému vozidlu, protože zelené vozidlo přijíždí zprava.
- b) Máte přednost v jízdě před zeleným vozidlem, protože zelené vozidlo přijíždí zprava.
- c) Máte přednost v jízdě před zeleným vozidlem, protože zelené vozidlo přijíždí zleva.

19.

**[4 b.] Vozidlo z výhledu projede křižovatkou jako:**



- a) druhé, protože protijedoucí vozidlo odbočuje z hlavní pozemní komunikace na vedlejší a má přednost v jízdě.  
 b) druhé.  
 c) první.

20.

**[4 b.] Řidič vozidla z výhledu hodlá na nejbližší křižovatce odbočit vpravo. Za této situace:**



- a) Řidič nesmí ohrozit cyklistu přejíždějícího pozemní komunikaci na přejezdu pro cyklisty  
 b) Řidič nesmí omezit cyklistu přejíždějícího pozemní komunikaci na přejezdu pro cyklisty

21.

**[1 b.] Za přestavbu silničního vozidla se považuje:**

- a) Nahrazení nebo doplnění vozidla součástí nebo výbavou, která splňuje podmínky stanovené zákonem.  
 b) Změna nebo úprava podstatných částí mechanismu nebo konstrukce provozovaného silničního vozidla.  
 c) Výměna podstatné části mechanismu nebo konstrukce silničního vozidla za náhradní díl k vozidlu.

22.

**[1 b.] Má vozidlo dle kontrolní nálepky na fotografii platnou technickou prohlídkou?**



- a) Ne.
- b) Nelze určit.
- c) Ano

23.	<p><b>[2 b.] Odcizení řidičského průkazu je držitel řidičského oprávnění povinen:</b></p> <ul style="list-style-type: none"><li>a) Neprodleně ohlásit příslušnému útvaru obecní policie.</li><li>b) Neprodleně ohlásit příslušnému útvaru dopravní policie.</li><li>c) Neprodleně ohlásit příslušnému obecnímu úřadu obce s rozšířenou působností.</li></ul>
24.	<p><b>[2 b.] Řidičské oprávnění skupiny C + E není třeba k řízení jízdní soupravy složené z motorového vozidla, k jehož řízení opravňuje řidičské oprávnění skupiny C, a přípojného vozidla:</b></p> <ul style="list-style-type: none"><li>a) S maximální přípustnou hmotností nejvýše 1.000 kg.</li><li>b) S maximální přípustnou hmotností nejvýše 1.500 kg.</li><li>c) S maximální přípustnou hmotností nejvýše 750 kg.</li></ul>
25.	<p><b>[1 b.] Správná frekvence stlačení hrudní kosti při srdeční masáži je u dospělého:</b></p> <ul style="list-style-type: none"><li>a) Přibližně 20 stlačení za minutu.</li><li>b) Přibližně 60 stlačení za minutu.</li><li>c) Přibližně 100 stlačení za minutu.</li></ul>

Otázka č.	A	B	C	D	E	F	Bodů
1							2
2							2
3							2
4							2
5							2
6							2
7							2
8							2
9							2
10							2
11							2
12							2
13							2
14							2
15							1
16							1
17							1
18							4
19							4
20							4
21							1
22							1
23							2
24							2
25							1

Otázka č.	A	B	C	D	E	F	Bodů
1	X						2
2		X					2
3			X				2
4	X						2
5		X					2
6		X					2
7	X						2
8		X					2
9	X						2
10			X				2
11	X						2
12		X					2
13		X					2
14	X						2
15	X						1
16		X					1
17		X					1
18	X						4
19			X				4
20	X						4
21		X					1
22			X				1
23			X				2
24			X				2
25			X				1